

TABLA DE CONTENIDOS

INFORMACIÓN INTRODUCTORIA

Sugerencias de enseñanza.....	iii
Cómo usar las tablas	iv


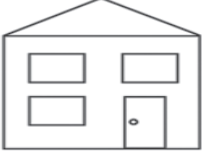


ENIGMAS





Lógica.....	1
Matemática.....	15
Lectura	29

SOLUCIONES	43
-------------------------	-----------

Estas páginas están protegidas contra la copia con un código digital que contiene un identificador único a cada comprador. Su distribución está prohibida.

INSTRUCCIONES: Completa la tabla usando S para sí o N para no, para resolver el enigma.

Un bombero, un doctor, un niño, y una niña viven cada uno en una casa distinta. Encuentra qué casa pertenece a cada uno.

1. La casa de la niña tiene más de dos ventanas y no es la más ancha.
2. La casa del bombero tiene menos de tres ventanas.
3. La casa del doctor tiene una ventana más que la del bombero y dos ventanas más que la del niño.